



12082CH08

समाकलनों के अनुप्रयोग (Application of Integrals)

❖ *One should study Mathematics because it is only through Mathematics that nature can be conceived in harmonious form. – BIRKHOFF* ❖

8.1 भूमिका (Introduction)

ज्यामिति में, हमने त्रिभुजों आयतों, समलंब चतुर्भुजों एवं वृत्तों सहित विभिन्न ज्यामितीय आकृतियों के क्षेत्रफल के परिकलन के लिए सूत्रों का अध्ययन किया है। वास्तविक जीवन की अनेक समस्याओं के लिए गणित के अनुप्रयोग में इस प्रकार के सूत्र मूल होते हैं। प्रारंभिक ज्यामिति के सूत्रों की सहायता से हम अनेक साधारण आकृतियों के क्षेत्रफल का परिकलन कर सकते हैं। यद्यपि ये सूत्र वक्रों द्वारा घिरे क्षेत्रफल के परिकलन के लिए अपर्याप्त हैं इसके लिए हमें समाकलन गणित की कुछ संकल्पनाओं की आवश्यकता होगी।

पिछले अध्याय में हमने योगफल की सीमा के रूप में निश्चित समाकलनों का परिकलन करते समय वक्र $y = f(x)$, कोटियों $x = a$, $x = b$ एवं x -अक्ष से घिरे क्षेत्रफल को ज्ञात करने का अध्ययन किया है। इस अध्याय में हम साधारण वक्रों के अंतर्गत, सरल रेखाओं एवं वृत्तों, परवलयों, तथा दीघवृत्तों (केवल मानक रूप) की चापों के बीच घिरे क्षेत्रफल को ज्ञात करने के लिए समाकलनों के एक विशिष्ट अनुप्रयोग का अध्ययन करेंगे। उपरोक्त वक्रों से घिरे क्षेत्रफल को भी ज्ञात करेंगे।



A.L. Cauchy
(1789-1857)

8.2 साधारण वक्रों के अंतर्गत क्षेत्रफल (Area Under Simple Curves)

पिछले अध्याय में हमने, योगफल की सीमा के रूप में निश्चित समाकलन एवं कलन की आधारभूत प्रमेय का उपयोग करते हुए निश्चित समाकलन का परिकलन कैसे किया जाए, का अध्ययन किया है। अब हम वक्र $y = f(x)$, x -अक्ष एवं कोटियाँ $x = a$ तथा $x = b$ से घिरे क्षेत्रफल को ज्ञात करने

की आसान एवं अंतर्ज्ञान से प्राप्त विधि की चर्चा करते हैं। आकृति 8.1 से हम वक्र के अंतर्गत क्षेत्रफल को बहुत सी पतली एवं उर्ध्वाधर बहुत सी पट्टियों से निर्मित मान सकते हैं। y उँचाई एवं dx चौड़ाई वाली एक स्वेच्छ पट्टी पर विचार कीजिए, इसमें dA (प्रारंभिक पट्टी का क्षेत्रफल) $= ydx$, जहाँ $y = f(x)$ है।

यह क्षेत्रफल प्रारंभिक क्षेत्रफल कहलाता है जो कि क्षेत्र के भीतर किसी स्वेच्छ स्थिति पर स्थापित है एवं a तथा b के मध्य x के किसी मान से विनिर्दिष्ट है। वक्र $y = f(x)$, कोटियों $x = a, x = b$ एवं x -अक्ष से घिरे क्षेत्र के कुल क्षेत्रफल A को, क्षेत्र $PQRSP$ में सभी पतली पट्टियों के क्षेत्रफलों के योगफल के परिणाम के रूप में देख सकते हैं। सांकेतिक भाषा में हम इसे इस प्रकार अभिव्यक्त करते हैं:

$$A = \int_a^b dA = \int_a^b ydx = \int_a^b f(x) dx$$

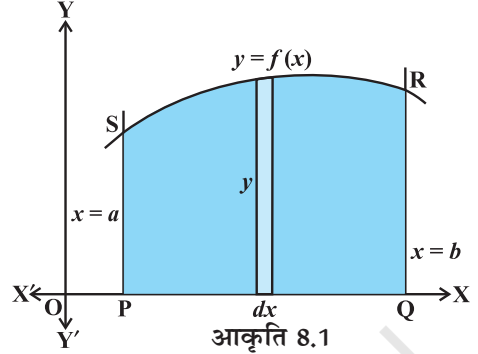
वक्र $x = g(y)$, y -अक्ष एवं रेखाएँ $y = c, y = d$ से घिरे क्षेत्र का क्षेत्रफल निम्नलिखित सूत्र द्वारा प्राप्त किया जाता है।

$$A = \int_c^d xdy = \int_c^d g(y) dy$$

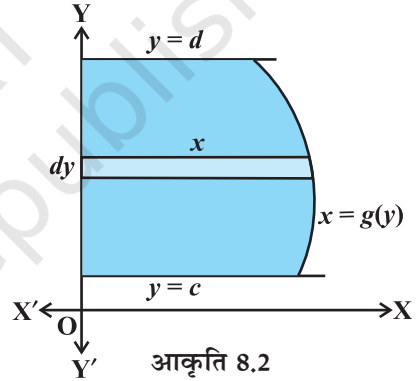
यहाँ हम क्षैतिज पट्टियों पर विचार करते हैं जैसा कि आकृति 8.2 में दर्शाया गया है।

टिप्पणी यदि चर्चित वक्र की स्थिति x -अक्ष के नीचे है, तो जैसा कि आकृति 8.3 में दर्शाया गया है, जहाँ $x = a$ से $x = b$ तक $f(x) < 0$ इसलिए दिए हुए वक्र, x -अक्ष एवं कोटियों $x = a, x = b$ से घिरे क्षेत्र का क्षेत्रफल ऋणात्मक हो जाता है, परंतु हम क्षेत्रफल के केवल संख्यात्मक मान की ही चर्चा करते हैं। इसलिए यदि क्षेत्रफल ऋणात्मक है तो हम इसके निरपेक्ष मान, अर्थात्

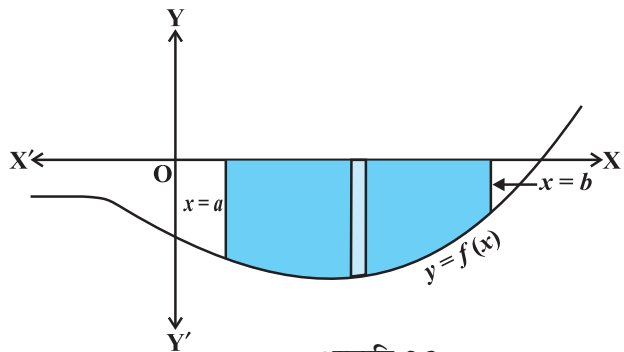
$$\left| \int_a^b f(x) dx \right| \text{ को लेते हैं।}$$



आकृति 8.1

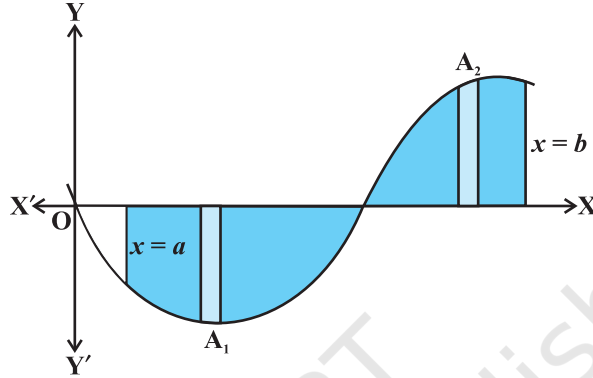


आकृति 8.2



आकृति 8.3

सामान्यतः ऐसा हो सकता है कि वक्र का कुछ भाग x -अक्ष के ऊपर है तथा कुछ भाग x -अक्ष के नीचे है, जैसा कि आकृति 8.4 में दर्शाया गया है। यहाँ $A_1 < 0$ तथा $A_2 > 0$ है, इसलिए वक्र $y = f(x)$, x -अक्ष एवं कोटियों $x = a$ तथा $x = b$ से घिरे क्षेत्र का क्षेत्रफल A सूत्र $A = |A_1| + A_2$ द्वारा प्राप्त किया जाता है।



आकृति 8.4

उदाहरण 1 वृत्त $x^2 + y^2 = a^2$ का क्षेत्रफल ज्ञात कीजिए।

हल आकृति 8.5 में दिए हुए वृत्त से घिरे हुए क्षेत्र का कुल क्षेत्रफल

= 4 (दिए हुए वक्र, x -अक्ष एवं कोटियों $x = 0$ तथा $x = a$ से घिरे क्षेत्र AOBA का क्षेत्रफल)

[क्योंकि वृत्त x -अक्ष एवं y -अक्ष दोनों के

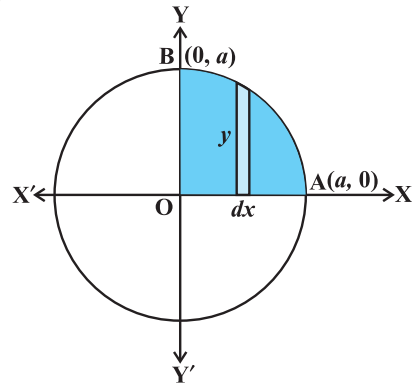
परितः सममित है]

$$= 4 \int_0^a y dx \text{ (उर्ध्वाधर पट्टियाँ लेते हुए)}$$

$$= 4 \int_0^a \sqrt{a^2 - x^2} dx,$$

क्योंकि $x^2 + y^2 = a^2$ से $y = \pm \sqrt{a^2 - x^2}$ प्राप्त होता है।

जैसा कि क्षेत्र AOBA प्रथम चतुर्थांश में सम्मिलित है इसलिए y को धनात्मक लिया जाता है। समाकलन करने पर दिए हुए वृत्त से घिरा क्षेत्रफल निम्नलिखित रूप में प्राप्त होता है:



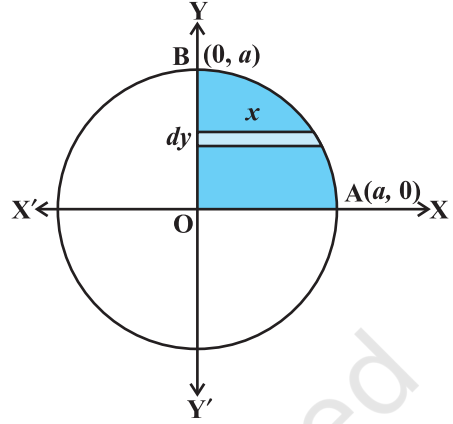
आकृति 8.5

$$= 4 \left[\frac{x}{2} \sqrt{a^2 - x^2} + \frac{a^2}{2} \sin^{-1} \frac{x}{a} \right]_0^a = 4 \left[\left(\frac{a}{2} \times 0 + \frac{a^2}{2} \sin^{-1} 1 \right) - 0 \right]$$

$$= 4 \left(\frac{a^2}{2} \right) \left(\frac{\pi}{2} \right) = \pi a^2$$

विकल्पतः जैसा कि आकृति 8.6 में दर्शाया गया है क्षेत्रज पट्टियों की चर्चा करते हुए वृत्त द्वारा घिरे क्षेत्र का कुल क्षेत्रफल

$$\begin{aligned}
 &= 4 \int_0^a x dy = 4 \int_0^a \sqrt{a^2 - y^2} dy \quad (\text{क्यों?}) \\
 &= 4 \left[\frac{y}{2} \sqrt{a^2 - y^2} + \frac{a^2}{2} \sin^{-1} \frac{y}{a} \right]_0^a \\
 &= 4 \left[\left(\frac{a}{2} \times 0 + \frac{a^2}{2} \sin^{-1} 1 \right) - 0 \right] \\
 &= 4 \frac{a^2}{2} \frac{\pi}{2} = \pi a^2
 \end{aligned}$$



आकृति 8.6

उदाहरण 2 दीर्घवृत्त $\frac{x^2}{a^2} + \frac{y^2}{b^2} = 1$ से घिरे क्षेत्र का

क्षेत्रफल का ज्ञात कीजिए।

हल आकृति 8.7 में दीर्घवृत्त से घिरे क्षेत्र ABA'B'A का क्षेत्रफल

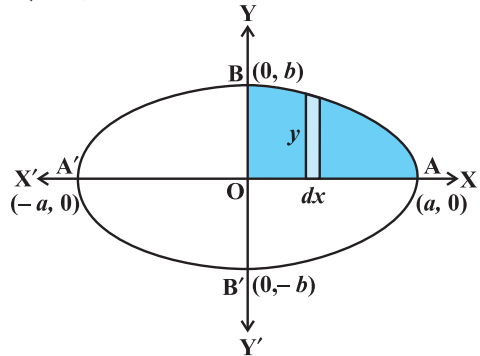
$$= 4 \left(\begin{array}{l} \text{दिए हुए वक्र, } x\text{-अक्ष, कोटियों } x=0, x=a \text{ द्वारा प्रथम चतुर्थांश में} \\ \text{घिरे क्षेत्र } AOBA \text{ का क्षेत्रफल} \end{array} \right)$$

(क्योंकि दीर्घवृत्त x -अक्ष एवं y -अक्ष दोनों के परितः सममित है)

$$= 4 \int_0^a y dx \quad (\text{उर्ध्वाधर पट्टियाँ लेते हुए})$$

अब $\frac{x^2}{a^2} + \frac{y^2}{b^2} = 1$ से $y = \pm \frac{b}{a} \sqrt{a^2 - x^2}$ प्राप्त होता है, परंतु क्षेत्र AOBA प्रथम चतुर्थांश में है इसलिए y धनात्मक लिया जाता है, इसलिए अभीष्ट क्षेत्रफल

$$\begin{aligned}
 &= 4 \int_0^a \frac{b}{a} \sqrt{a^2 - x^2} dx \\
 &= \frac{4b}{a} \left[\frac{x}{2} \sqrt{a^2 - x^2} + \frac{a^2}{2} \sin^{-1} \frac{x}{a} \right]_0^a \quad (\text{क्यों?}) \\
 &= \frac{4b}{a} \left[\left(\frac{a}{2} \times 0 + \frac{a^2}{2} \sin^{-1} 1 \right) - 0 \right] \\
 &= \frac{4b}{a} \frac{a^2}{2} \frac{\pi}{2} = \pi ab \text{ है।}
 \end{aligned}$$



आकृति 8.7

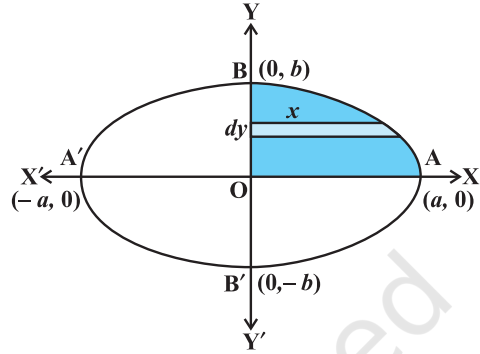
विकल्पतः जैसा कि आकृति 8.8 में दर्शाया गया है क्षेत्रज पट्टियों की चर्चा करते हुए दीर्घवृत्त का क्षेत्रफल

$$= 4 \int_0^b x dy = 4 \frac{a}{b} \int_0^b \sqrt{b^2 - y^2} dy \quad (\text{क्यों?})$$

$$= \frac{4a}{b} \left[\frac{y}{2} \sqrt{b^2 - y^2} + \frac{b^2}{2} \sin^{-1} \frac{y}{b} \right]_0^b$$

$$= \frac{4a}{b} \left[\left(\frac{b}{2} \times 0 + \frac{b^2}{2} \sin^{-1} 1 \right) - 0 \right]$$

$$= \frac{4a}{b} \cdot \frac{b^2}{2} \cdot \frac{\pi}{2} = \pi ab \quad \text{है।}$$



आकृति 8.8

प्रश्नावली 8.1

1. दीर्घवृत्त $\frac{x^2}{16} + \frac{y^2}{9} = 1$ से घिरे क्षेत्र का क्षेत्रफल ज्ञात कीजिए।
2. दीर्घवृत्त $\frac{x^2}{4} + \frac{y^2}{9} = 1$ से घिरे क्षेत्र का क्षेत्रफल ज्ञात कीजिए।

प्रश्न 3 एवं 4 में सही उत्तर का चयन कीजिए:

3. प्रथम चतुर्थांश में वृत्त $x^2 + y^2 = 4$ एवं रेखाओं $x = 0, x = 2$ से घिरे क्षेत्र का क्षेत्रफल है:

(A) π (B) $\frac{\pi}{2}$ (C) $\frac{\pi}{3}$ (D) $\frac{\pi}{4}$

4. वक्र $y^2 = 4x$, y -अक्ष एवं रेखा $y = 3$ से घिरे क्षेत्र का क्षेत्रफल है:

(A) 2 (B) $\frac{9}{4}$ (C) $\frac{9}{3}$ (D) $\frac{9}{2}$

विविध उदाहरण

उदाहरण 3 रेखा $y = 3x + 2$, x -अक्ष एवं कोटियों $x = -1$ एवं $x = 1$ से घिरे क्षेत्र का क्षेत्रफल ज्ञात कीजिए।

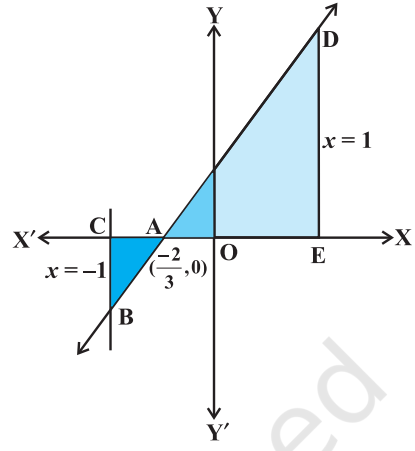
हल जैसा कि आकृति 8.9 में दर्शाया गया है, रेखा

$y = 3x + 2$, x -अक्ष को $x = \frac{-2}{3}$ पर मिलती है और

$x \in \left(-1, \frac{-2}{3}\right)$ के लिए इसका आलेख x -अक्ष के नीचे

है तथा $x \in \left(\frac{-2}{3}, 1\right)$ के लिए इसका आलेख x -अक्ष से ऊपर है।

अभीष्ट क्षेत्रफल = क्षेत्र ACBA का क्षेत्रफल + क्षेत्र ADEA का क्षेत्रफल



आकृति 8.9

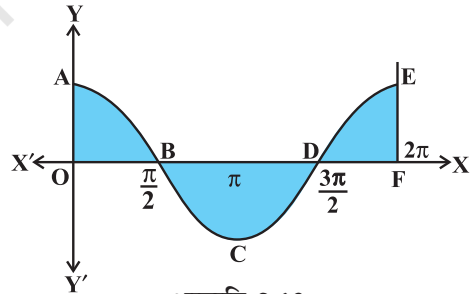
$$\begin{aligned} &= \left| \int_{-1}^{\frac{-2}{3}} (3x+2) dx \right| + \int_{\frac{-2}{3}}^1 (3x+2) dx \\ &= \left[\frac{3x^2}{2} + 2x \right]_{-1}^{\frac{-2}{3}} + \left[\frac{3x^2}{2} + 2x \right]_{\frac{-2}{3}}^1 = \frac{1}{6} + \frac{25}{6} = \frac{13}{3} \end{aligned}$$

उदाहरण 4 $x = 0$ एवं $x = 2\pi$ के मध्य वक्र $y = \cos x$ से घिरे क्षेत्र का क्षेत्रफल ज्ञात कीजिए।

हल आकृति 8.10 से, अभीष्ट क्षेत्रफल

= क्षेत्र OABO का क्षेत्रफल + क्षेत्र BCDB का क्षेत्रफल + क्षेत्र DEFD का क्षेत्रफल

इसलिए अभीष्ट क्षेत्रफल



आकृति 8.10

$$\begin{aligned} &= \int_0^{\frac{\pi}{2}} \cos x dx + \left| \int_{\frac{\pi}{2}}^{\frac{3\pi}{2}} \cos x dx \right| + \int_{\frac{3\pi}{2}}^{2\pi} \cos x dx \\ &= \left[\sin x \right]_0^{\frac{\pi}{2}} + \left| \left[\sin x \right]_{\frac{\pi}{2}}^{\frac{3\pi}{2}} \right| + \left[\sin x \right]_{\frac{3\pi}{2}}^{2\pi} = 1 + 2 + 1 = 4 \end{aligned}$$

अध्याय 8 पर विविध प्रश्नावली

- दिए हुए वक्रों एवं रेखाओं से घिरे क्षेत्र का क्षेत्रफल ज्ञात कीजिए:
 - $y = x^2$; $x = 1$, $x = 2$ एवं x -अक्ष
 - $y = x^4$; $x = 1$, $x = 5$ एवं x -अक्ष
 - $y = |x+3|$ का ग्राफ खींचिए एवं $\int_{-6}^0 |x+3| dx$ का मान ज्ञात कीजिए।
 - $x = 0$ एवं $x = 2\pi$ तथा वक्र $y = \sin x$ से घिरे क्षेत्र का क्षेत्रफल ज्ञात कीजिए।
- 4 से 5 तक के प्रश्नों में सही उत्तर का चयन कीजिए:
- वक्र $y = x^3$, x -अक्ष एवं कोटियों $x = -2$, $x = 1$ से घिरे क्षेत्र का क्षेत्रफल है:

(A) -9	(B) $\frac{-15}{4}$	(C) $\frac{15}{4}$	(D) $\frac{17}{4}$
----------	---------------------	--------------------	--------------------
 - वक्र $y = x|x|$, x -अक्ष एवं कोटियों $x = -1$ तथा $x = 1$ से घिरे क्षेत्र का क्षेत्रफल है:

(A) 0	(B) $\frac{1}{3}$	(C) $\frac{2}{3}$	(D) $\frac{4}{3}$
---------	-------------------	-------------------	-------------------

[संकेत : $y = x^2$ यदि $x > 0$ एवं $y = -x^2$ यदि $x < 0$]

सारांश

- वक्र $y = f(x)$, x -अक्ष एवं रेखाओं $x = a$ तथा $x = b$ ($b > a$) से घिरे क्षेत्र के क्षेत्रफल का सूत्र : क्षेत्रफल $= \int_a^b y dx = \int_a^b f(x) dx$ है।
- वक्र $x = \phi(y)$, y -अक्ष एवं रेखाओं $y = c$, $y = d$ से घिरे क्षेत्र के क्षेत्रफल का सूत्र : क्षेत्रफल $= \int_c^d x dy = \int_c^d \phi(y) dy$ है।

ऐतिहासिक पृष्ठभूमि

समाकलन गणित का प्रारंभ गणित के प्रारंभिक विकास काल से ही हुआ है। यह प्राचीन यूनानी गणितज्ञों द्वारा विकसित निःशेषता विधि पर आधारित है। इस विधि का प्रारंभ समतलीय आकृतियों के क्षेत्रफल और ठोस वस्तुओं के आयतन की गणना से हुआ। इस तरह से निःशेषता विधि, समाकलन विधि की प्रारंभिक स्थिति के रूप में समझी जा सकती है। निःशेषता विधि का सर्वोत्कृष्ट विकास प्रारंभिक काल में यूडोक्स (Eudoxus (440 ई. पू.) और आर्किमिडीज (Archimedes (300 ई. पू.) के कार्यों से प्राप्त हुआ है।

कलन के सिद्धांत का क्रमबद्ध विकास ईसा के पश्चात् 17वीं शताब्दी में हुआ। सन् 1665 में न्यूटन ने कलन पर अपना कार्य प्रवाहन सिद्धांत (Theory of fluxion) के रूप में प्रारंभ किया।

उन्होंने इस सिद्धांत का प्रयोग वक्र के किसी बिंदु पर स्पर्शी और वक्रता-त्रिज्या ज्ञात करने में किया। न्यूटन ने व्युत्क्रम फलन की धारणा से परिचय कराया और इसको प्रतिअवकलज (अनिश्चित समाकलन) या स्पर्शियों की व्युत्क्रम विधि (Inverse Method of tangents) का नामकरण किया।

1684-86, के बीच में लैवनिज़ (Leibnitz) ने एक प्रपत्र एकटा इरोडिटोरियम (Acta Eruditorum) में प्रकाशित किया और इसे कैलक्यूलस सम्मैटोरियस (Calculus Summatorius) नाम दिया, क्योंकि यह अनंत छोटे क्षेत्रफलों के योगफल से संबंधित था, वहीं पर उन्होंने इसे योगफल के प्रतीक 'j' द्वारा व्यक्त किया। सन् 1696 ई. में उन्होंने जे. बरनौली (J. Bernoulli) के सुझाव को मानकर अपने प्रपत्र को कैलक्यूलस इंटेग्राली (Calculus Integralli) नाम में परिवर्तित कर दिया। यह न्यूटन द्वारा स्पर्शियों की व्युत्क्रम विधि के संगत था।

न्यूटन और लैवनिज़ दोनों ने पूर्णतः स्वतंत्र मार्ग अपनाया जो मूलतः भिन्न थे। तथापि उन दोनों के सिद्धांतों के संगत प्रतिफल तत्सम पाए गए। लैवनिज़ ने निश्चित समाकलन की धारणा का प्रयोग किया।

यह निश्चित है कि उन्होंने ही सर्वप्रथम प्रतिअवकलज और निश्चित समाकलन के बीच के संबंध को स्पष्टतया सराहा।

निष्कर्ष यह है कि समाकलन गणित के आधारभूत धारणाओं, सिद्धांतों तथा अवकलन गणित से इसके प्रारंभिक संबंधों का विकास पी.डी. फर्मा, न्यूटन, और लैवनिज़ के कार्यों द्वारा 17वीं शताब्दी के अंत में हुआ। तथापि इसका औचित्य, सीमा की संकल्पना के आधार पर 19वीं शताब्दी के प्रारंभ में ए.एल.कोशी (A.L. Cauchy) के द्वारा किया गया। अंत में ली सोफी (Lie Sophie) का निम्नलिखित उद्धरण वर्णनीय है। "It may be said that the conceptions of differential quotient and integral which in their origin certainly go back to Archimedes were introduced in Science by the investigations of Kepler, Descartes, Cavalieri, Fermat and Wallis... The discovery that differentiation and integration are inverse operations belongs to Newton and Leibnitz".