



0225CH07




आओ पढ़ें


एक बार जगदीप नाम का राजा अपनी रानी के लिए नक्काशी वाला बहुत सुंदर पलंग बनवाना चाहता था। उसने अपने नगर का सबसे अच्छा बढ़ई बुलवाया।



1, 2, 3 ... 14 यह पलंग तो 14 बालिशत लंबा है



राजा के साथ-साथ अन्य लोग भी असमंजस में थे।






बताइए कि मंत्री के पास इस समस्या का क्या हल हो सकता है? चर्चा कीजिए।



आओ करें

नीचे दी गई वस्तुओं को अपनी पाठ्यपुस्तक से मापिए।

वस्तु	अनुमानित लंबाई	वास्तविक लंबाई
मेज 		
ब्लैकबोर्ड 		
खिड़की 		



कितने ब्लॉक्स?



मैं ब्लॉक्स की सहायता से
अपने खिलौनों की लंबाई
पता करती हूँ



रिक्त स्थान भरिए।

क. जिराफ़ _____ ब्लॉक्स लंबा है।

ख. _____ 7 ब्लॉक्स लंबा है।

ग. बंदर _____ ब्लॉक्स लंबा है।

घ. हाथी _____ ब्लॉक्स लंबा है।





आओ करें

आपका हाथ कितना लंबा है? अपना हाथ ट्रेस कीजिए एवं रेखाओं की संख्या गिनिए।

© NCERT to be republished



परियोजना कार्य

नीचे दी गई वस्तुओं की लंबाई अपनी पसंद की किसी वस्तु, जैसे— रबर, ब्लॉक्स, पेंसिल इत्यादि से मापिए। अपने मापन को कॉपी पर लिखिए।

- घर की कोई दीवार
- पलंग की लंबाई
- दरवाजे की लंबाई



कद्दू जी की चौपाल

चित्र को देखिए और तुलना कीजिए कि कौन-सी सब्जियाँ दूसरी सब्जियों से हल्की या भारी हैं।



आपके विचार में कद्दू और तरबूज में से कौन भारी है? चर्चा कीजिए।

रिक्त स्थान भरिए।

- क. खरबूजा, गाजर से भारी है।
ख. मिर्च, _____ से हल्की है।
ग. _____, _____ से भारी है।
घ. _____, _____ से हल्की है।
ङ. _____ सबसे हल्की है।
च. _____ सबसे भारी है।



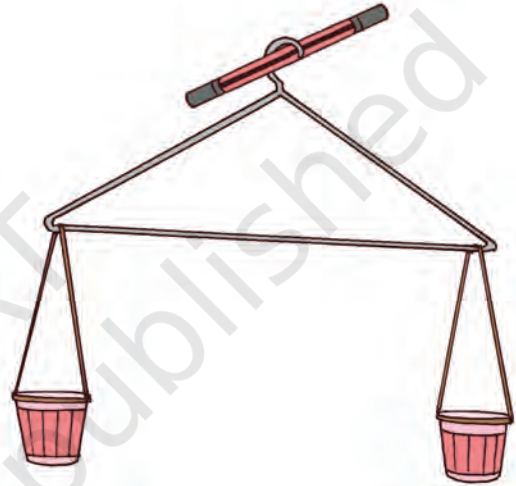
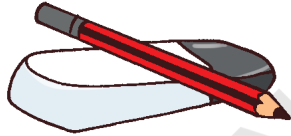


आओ करें

अपने आस-पास से कुछ वस्तुएँ इकट्ठी कीजिए। इनमें से सबसे भारी एवं सबसे हल्की वस्तु छाँटिए। सभी वस्तुओं को उनके भार के बढ़ते क्रम में लगाइए।
आपने कैसे जाना कि कौन हल्का है और कौन-सा भारी है?

अपना तराजू बनाइए

दिए गए चित्र के अनुसार दो पेपर कप, धागा एवं एक छड़ी अथवा हैंगर की सहायता से एक तराजू बनाइए। अब किन्हीं दो वस्तुओं, जैसे— रबड़, गेंद, मोती, पेंसिल, रंग इत्यादि की तुलना कर बताइए कि कौन-सा भारी है।




आओ करें

क. सबसे भारी वस्तुओं पर गोला ○ बनाइए।


अ.



ब.



ख. सबसे हल्की वस्तुओं पर गोला ○ बनाइए।



आओ सोचें

कौन-सी सब्जी या फल वाला पलड़ा नीचे जाएगा उस पर सही का चिह्न ✓ लगाइए। हल्के के लिए 'ह' और भारी के लिए 'भ' लिखें।

क.

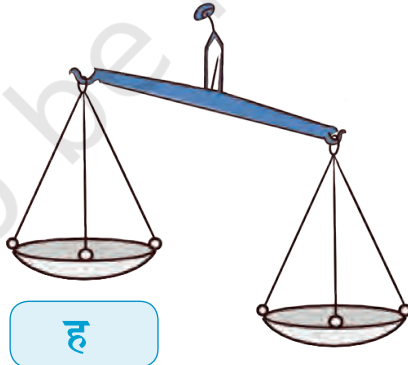



भ




ह

ख.




ह



भ



ग.




घ.






आओ करें

समान आकार के कागज़ के दो थैले लें। एक थैले में रेत एवं दूसरे थैले में सूखी पत्तियाँ भरिए। चर्चा कीजिए कि कौन-सा थैला भारी है।




चित्र देखिए एवं पता कीजिए कि ये सभी किस प्रकार विभिन्न वस्तुओं को तोल रहे हैं।




ऐसे तराजू पर सही का चिह्न  लगाइए, जिसे आपने पहले से देखा है।



बगीचे में फल




तरबूज एवं आम झूले पर झूलना चाहते हैं। तरबूज झूले के एक ओर बैठ जाता है, जिस कारण झूला ऊपर नहीं उठ पा रहा है। उसके मित्र आम झूले के दूसरी ओर बैठ जाते हैं। तरबूज को कितने आमों से संतुलित किया जा सकता है? चित्र देखकर बताइए।



अगर 1 नारियल का वजन

=



2 आमों का वजन

तरबूज को कितने नारियल से संतुलित किया जा सकता है?



परियोजना कार्य

अपने कुछ मित्रों या परिवार के सदस्यों के नाम लिखिए, जिन्हें आप सोचते हैं कि उनका वजन—

क. आपके वजन के बराबर है _____

ख. आपके वजन से अधिक है _____

ग. आपके वजन से कम है _____

ऐसे स्थानों का पता लगाइए, जहाँ आप अपना वजन तोल सकते हैं। अपना वजन ज्ञात कीजिए।

बच्चों को अपने आस-पास की वस्तुओं की तुलना में कुछ वस्तुओं के वजन का अनुमान लगाने के लिए प्रेरित करें।



आओ नीबू पानी बनाए।

रघु और उसके मित्रों ने रघु की दादी के लिए नीबू पानी बनाया। उन्होंने 1 गिलास नीबू पानी के लिए नीचे दी गई वस्तुओं का उपयोग किया—

- क. पानी – 1 गिलास
- ख. चीनी – 1 चम्मच
- ग. नीबू रस – 2 चम्मच
- घ. नमक – चुटकी भर



रघु अपने लिए और अपने दो मित्रों के लिए नीबू पानी बनाना चाहता है। रघु को 3 गिलास नीबू पानी और बनाना है। 3 गिलास नीबू पानी बनाने के लिए आवश्यक सामग्री की मात्रा लिखिए।

पानी— गिलास

चीनी— चम्मच

नीबू रस— चम्मच

नमक— चुटकी



पता करें

आपके घर कौन-सा पेय पदार्थ बनाया जाता है? अपनी पसंद का पेय पदार्थ बनाने के लिए आवश्यक सामग्री का पता लगाइए।

आपकी पसंद के पेय पदार्थ का नाम _____

आवश्यक सामग्री	मात्रा





पता करें

रघु की बोतल 4 गिलास पानी से भर जाती है।

क. आपकी बोतल कितने गिलास पानी से भर सकती है?

ख. आपके मित्र की बोतल कितने गिलास पानी से भर सकती है?



ग. क्या आपके मित्र की बोतल बराबर अथवा अधिक अथवा कम मात्रा में पानी से भरती है?

उस मित्र का नाम लिखिए, जिसकी बोतल में आपकी बोतल—

के बराबर पानी आ सकता है

से कम पानी आ सकता है

से अधिक पानी आ सकता है



परियोजना कार्य

गिलास की सहायता से एक जलतरंग (संगीत उपकरण) बनाइए। एक जैसे 5 से 7 गिलास इकट्ठा कीजिए। उनमें अलग-अलग स्तर पर पानी भरिए। सभी को बारी-बारी से चम्मच से बजाइए एवं चम्मच से बजाने पर होने वाली ध्वनि सुनिए। अलग-अलग ध्वनियाँ सुनने के लिए गिलासों के अलग-अलग हिस्से पर चम्मच से बजाइए।

हमारे जीवन में पानी के उपयोग एवं महत्व पर चर्चा कीजिए। पानी के सही उपयोग एवं पानी बर्बाद न करने पर भी चर्चा कीजिए।

